


ЗАВДАННЯ НА МІЖПРЕДМЕТНІЙ ОСНОВІ

1 Яку властивість мають усі ці тіла? Вибери правильні, на твою думку, відповіді.

- Усі тіла складаються з речовин.
- Усі тіла тверді.
- Усі тіла мають масу.
- Усі тіла прозорі.



2 Як утворюються гірські породи? Установи відповідність.



Пісок

Кам'яна
сіль

Буре
вугілля

Кам'яне
вугілля

Крейда

Глина

З решток
велетенських
рослин

Під час
руйнування
гір

Із черепашок
морських
тварин

Після
випаровування
солоних озер
і морів

3

Яке значення має ґрунт? Познач правильні, на твою думку, відповіді.

- Містить поживні речовини для рослин, тварин
- У ґрунті відбувається розклад відмерлих тварин, рослин
- Є природним фільтром підземних вод
- Є джерелом енергії для рослин і тварин
- Це середовище існування багатьох видів тварин і рослин. У ґрунті вони живуть і розмножуються
- Ґрунт є основою для будівництва будинків, споруд, доріг
- Покриває всю планету
- Зберігає предмети старовини

4

Що необхідно робити людям для охорони і збереження родючості ґрунтів? Вибери правильні, на твою думку, відповіді.

- насаджувати на пагорбах дерева, кущі
- спалювати опале листя, суху траву
- здійснювати затримання снігу, талої і дощової води
- насаджувати лісозахисні смуги
- вносити в ґрунт добрива

5


Вибери спільні ознаки рослин і тварин, за якими їх відносять до живої природи.

- | | | |
|------------------------------------|-----------------------------------|--|
| <input type="checkbox"/> дихають | <input type="checkbox"/> плавають | <input type="checkbox"/> стрибають |
| <input type="checkbox"/> живляться | <input type="checkbox"/> ростуть | <input type="checkbox"/> літають |
| <input type="checkbox"/> вмирають | <input type="checkbox"/> повзають | <input type="checkbox"/> розмножуються |

6

Установи відповідність між назвою групи тварин і їх описом.

Черви



Тіло поділяється на голову, тулуб, ногу і розміщене в черепашці. Більшість із них живуть у воді.

Молюски



Тіло м'яке, розділене на багато кілець. Рухаються, скорочуючи і розслаблюючи м'язи. Живуть на суші, у ґрунті, у воді.

Павуки



Тіло покрите панциром. Мають великі клішні біля голови, дві пари вусиків і черевце, схоже на хвіст. Живуть у воді

Раки

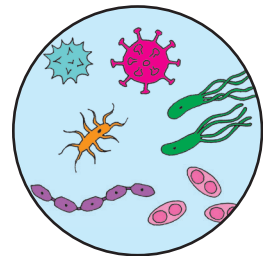


Мають кругле черевце, вкрите волосками, вісім ніг. Плетуть павутину. Живуть усюди.

7

Вибери ознаки, за якими бактерії відносять до живої природи.

- рухаються
- дихають
- живляться
- ростуть
- спричиняють бродіння
- очищують навколишнє середовище від забруднення
- розмножуються
- вмирають
- збагачують ґрунт поживними речовинами



8

Які ознаки подібні в людини і тварини?

Наявність чотирьох кінцівок

Розвиненість органів чуття: слуху, зору, нюху, смаку, дотику

Уміння говорити й читати

Вигодовування немовлят молоком

Опанування різними видами праці

9

Установи відповідність між поняттями.



Правила написання префіксів

Граматичні правила



Правила поведінки за обіднім столом

Правила дорожнього руху



Правила переходу вулиці

Правила етикету



Правила життя в суспільстві, країні

Інструкція



Правила користування електроприладами

Державні закони

10

Установи відповідність між поняттям та його значенням.

Право

Порушення норм поведінки, установлених законом, що завдає шкоди іншим людям або державі.

Правопорушення

Інтереси людини, що забезпечуються законом.

Покарання

Передбачений законом засіб впливу на людину, яка скоїла злочин.

11

Які властивості має водяна пара? Вибери правильні, на твою думку, відповіді.

- легша за повітря, прозора, безбарвна, під час охолодження перетворюється на рідину
- легша за повітря, прозора, безбарвна, без запаху, під час охолодження перетворюється на рідину
- важча за повітря, прозора, безбарвна, без запаху, під час охолодження перетворюється на рідину