

Вивчаємо число і цифру 6

До уроку 18

1


З'єднай кожну цифру з відповідною кісточкою доміно. Домалюй потрібну кількість предметів.



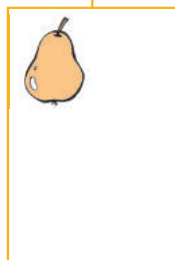
1




2




3



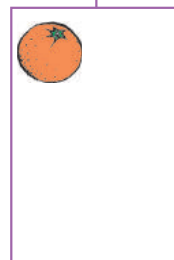
4



5





6

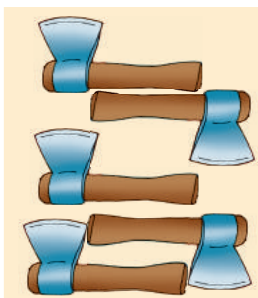



2

Перевір, чи правильно записано нерівності до малюнків. Знайди значення виразів.



$$4 < 7$$



$$6 < 5$$

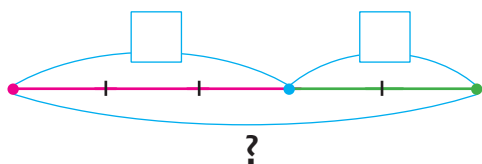
$$6 > 9$$

Вивчаємо число і цифру 6

До уроку 18

3

Доповни схеми. Добери до кожної схеми вираз, знайди його значення.

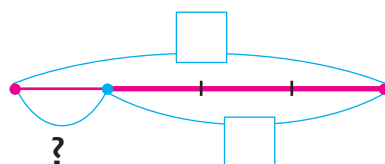


3 - 2

3 + 2

4 - 3

1 + 3



4

Навчись писати цифру 6.

