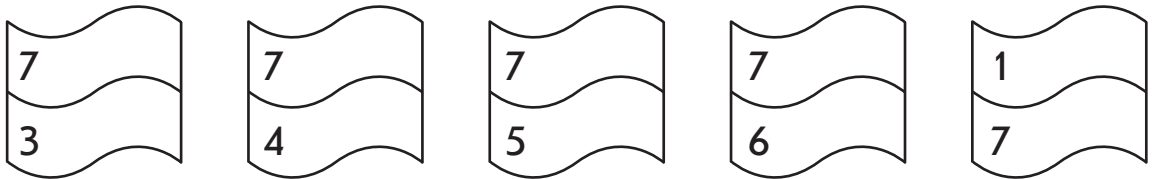


➤➤ Порівнюємо числа

До уроку 25

4

У кожній парі зафарбуй смужку з більшим числом синім олівцем, а з меншим — жовтим. Що тобі нагадують ці кольори?

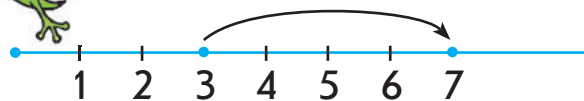


5

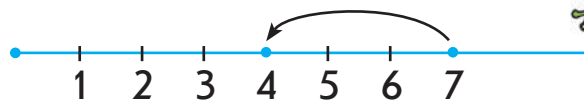
Виконай дії за числовим променем.



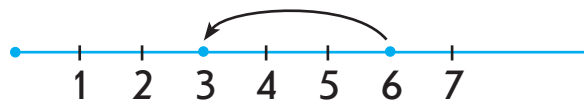
$$5 + 2 = \dots$$



$$3 + 4 = \dots$$



$$7 - 3 = \dots$$



$$6 - 3 = \dots$$