

Порівнюємо числа

До уроку 19

1

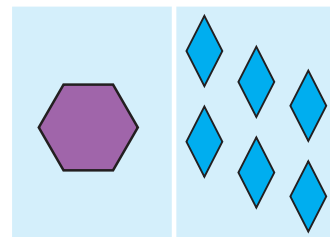
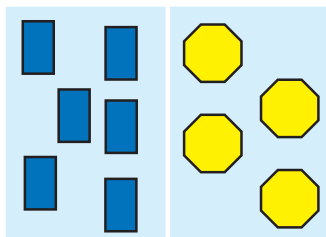
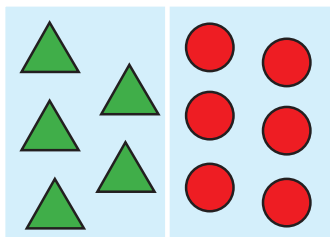
Встав пропущені числа.

1 . 3 . . 6 7 8 9 10

6 1

2

Виконай порівняння і запиши відповідні нерівності.



3

Перевір роботу дівчинки. Допоможи порівняти числа.



$6 > 4$

$3 > 1$

$8 \circ 7$

$10 \circ 6$

$8 > 3$

$2 < 6$

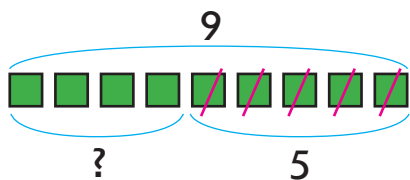
$5 \circ 6$

$7 \circ 8$

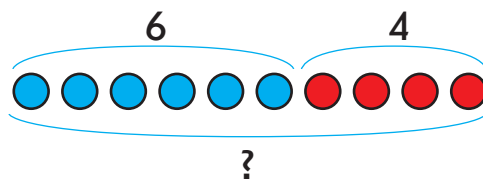


4

Добери вирази до малюнків. Усно знайди значення виразів перелічуванням фігур.



$6 + 4$



$9 - 5$

➤➤ Порівнюємо числа

До уроку 19

5

Наведи та допиши.



6

Обведи листки, на яких значення виразу дорівнює 5.