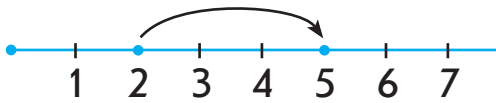


➤➤ Додаємо і віднімаємо в межах 6

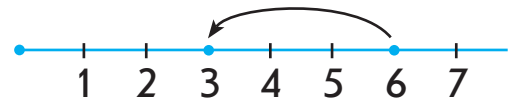
До уроку 23

3

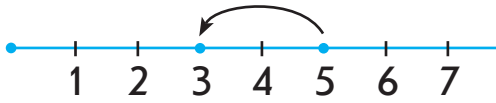
Виконай арифметичні дії додавання і віднімання за числовим променем.



$$2 + 3 = .$$



$$6 - 3 = .$$



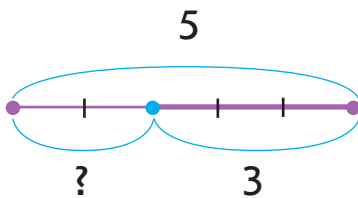
$$5 - 2 = .$$



$$1 + 2 = .$$

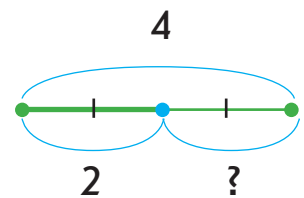
4

Добери до кожної схеми вираз. Поясни свій вибір.



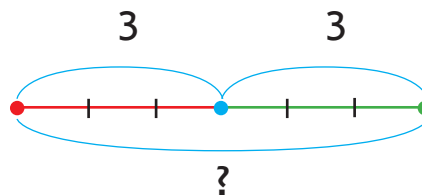
$$5 + 3$$

$$5 - 3$$



$$4 + 2$$

$$4 - 2$$



$$3 + 3$$

$$3 - 3$$

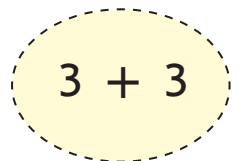
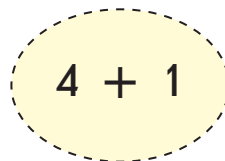
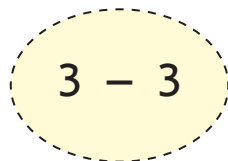
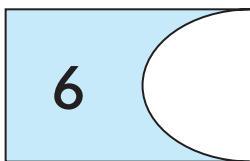
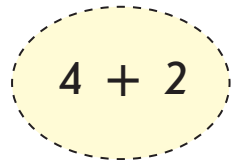
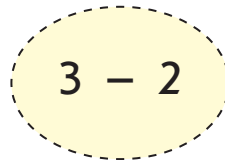
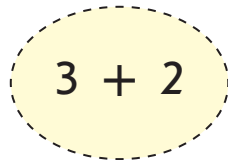
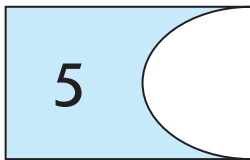
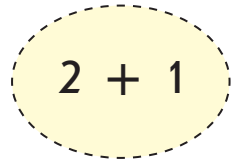
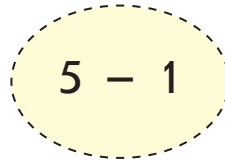
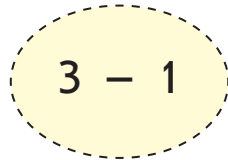
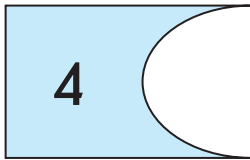


➤➤ Додаємо і віднімаємо в межах 6

До уроку 23

5

Обведи вираз до поданого значення.



6

Наведи та допиши.

2 + 3 - 3	2 + 3 - 3	.	2 + 3 - 3
6 - 3 - 3	6 - 3 - 3	.	6 - 3 - 3
5 3 1	5 3 1	5 3 1	5 3 1
6 4 2	6 4 2	6 4 2	6 4 2

Below the grid are two rows of dashed lines for tracing. The first row starts with a square and a triangle, followed by a series of connected squares. The second row starts with a square and a triangle, followed by a series of connected squares. Arrows indicate the direction of the strokes for the first few shapes in each row.

